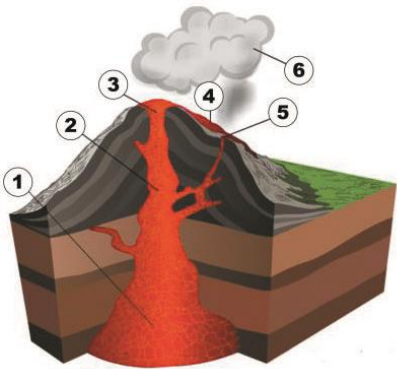
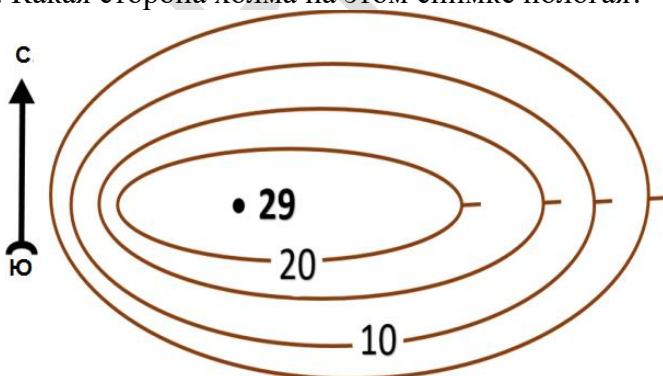


1-часть. Каждое задание оценивается 0,9 баллом

1. Какая река образуется от слияния рек Чаткал и Пскем в котловине Чарвак?
А) Зарафшан В) Чирчик С) Пскем Д) Сирдарья
2. Какой процент территории Узбекистана занимает пустыня?
А) 80% В) 50% С) 30% Д) 70%
3. Какое слово по-гречески означает «восходить»?
А) рельеф В) ландшафт С) вулкан Д) астеносфера
4. Сколько существует уровней экологических проблем с точки зрения масштаба?
А) 6 В) 3 С) 5 Д) 2
5. В какой экономической районе находятся железные дороги треугольной формы?
А) Мирзачул В) Нижняя Амударья С) Ташкент Д) Фергана
6. Какова толщина континентальной коры на Памире и Гиндукуше?
А) 60-70 км В) 70-80 км С) 50-60 км Д) 35-40 км
7. Какой элемент вулкана отмечен цифрой 3 на рисунке ниже?



- А) лава В) канал вулкана С) кратер Д) извержение вулкана
8. Какой инструмент используется для определения направления ветра?
А) термометр В) флюгер С) анемометр Д) барометр
9. Какая сторона холма на этом снимке пологая?



- А) восточная
- В) западная
- С) северная
- Д) южная



10. Среди каких вилоятов находится Шуркульское водохранилище?

- A) Кашкадарья и Бухара
B) Бухара и Навои
C) Сурхандарья и Кашкадарья
D) Навои и Кашкадарья

2-часть. Каждое задание оценивается 1,5 баллом

11. Как называются земные отложения, исходя из происхождения?

- A) аккумулятивные отложения
B) коричневая океаническая грязь
C) терригенные отложения
D) красная океаническая глина

12. Какие районы Ташкентской области специализируются в основном на выращивании овощей и фруктов?

- A) Янгийул, Кибрай, Бостанлык, Паркент
B) Паркент, Газалкент, Ангрен, Нурабад
C) Бекабад, Дустабад, Чиназ, Чирчик
D) Пскент, Аккурган, Бука, Алмалык

13. С чем неразрывно связана соленость океанической воды?

- A) с температурой воды
B) с водорослями и микроорганизмами
C) с частицами в составе
D) с глубиной и площадью

14. Как называются большие участки тропосферного, которые отличаются друг от друга по температуре, влажности, ветрам и другим свойствам?

- A) континентальный воздух
B) морской воздух
C) воздушные массы
D) воздушные движения

15. Пачкамарское водохранилище было построено для регулирования стока какой реки?

- A) Кашкадарье
B) Гузардарье
C) Аксударье
D) Танхоздарье

16. Кто исследовал северо-восточную часть Североамериканского континента и остров Гренландия в конце X века?

- A) А. Маккензи
B) Джон Кабот
C) Г. Гудзон
D) Эрик Рауда

17. Что представляет собой природная зона в южной части Тургайского плато и большая по площади южная часть Казахского мелкосопочника?

- A) Степь
B) Пустыня
C) Полупустыня
D) Адыр

18. Где был построен первый в нашей стране хлопкоочистительный завод?

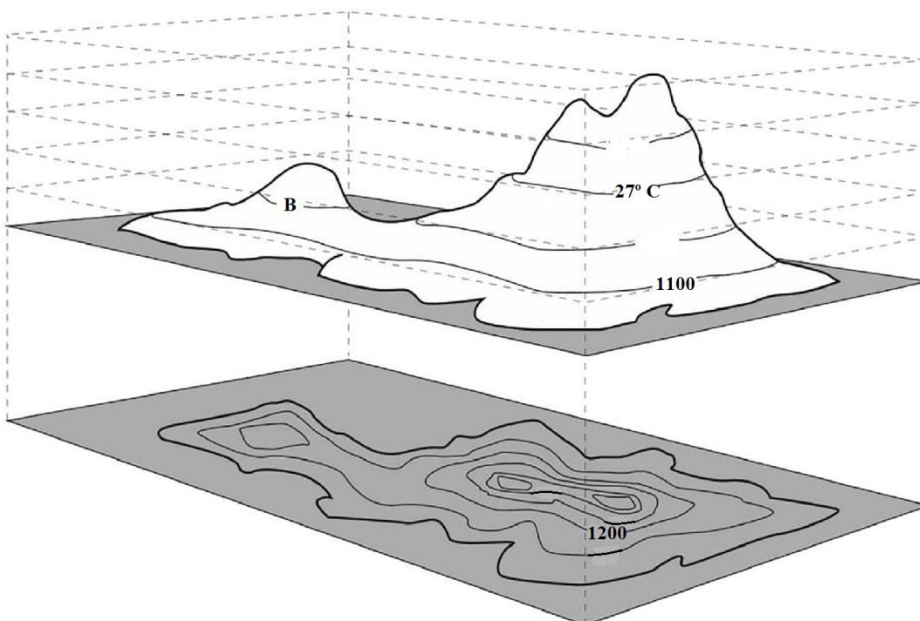
- A) Самарканд B) Ташкент C) Наманган D) Бекабад



19. На какой реке построено Гурийское водохранилище?
А) Каруна В) Волга С) Нигер D) Миссисипи
20. От слияния каких рек образуется Карадарье?
А) Аксу и Танхаздарья В) Аравансай и Акбура
С) Яссы и Кугарт D) Тор и Карагульджа

3-часть. Каждое задание оценивается 2,6 баллом

21. Какие материки отделились от Гондваны 65 млн лет назад?
1. Африка; 2. Северная Америка; 3. Австралия; 4. Антарктида; 5. Евразия; 6. Южная Америка
А) 2, 4, 5, 6 В) 1, 3, 4, 6 С) 2, 3, 4, 6 D) 1, 2, 5, 6
22. На картах, составленных по каким шаблонам, параллели с меридианами образуют сетку, состоящую из прямых, пересекающих друг друга под углом 90°?
А) конусообразный В) цилиндрический
С) Азимутный D) в равной площади
23. Как называется Средиземное море на карте путешествий Насира Хусрова?
А) Римское море В) Абискунское море С) Персидское озеро D) Кульзумское море
24. Какие неглубокие понижения находятся в центральной части Мирзачуля?
А) Кизилкум, Джетысай, Баявут В) Амир Темур, Сангзар, Мирзаабат
С) Джетысай, Сардоба, Шурузяк D) Сардоба, Ерджар, Сангзар
25. Что из следующего верно относительно морей Атлантического, Тихого, Индийского и Северного Ледовитого океана (соответственно)?
А) Крит, Уэдделла, Тимор, Дейвиса В) Лигурийский, Коро, Дюрвиля, Восточно-Сибирское море
С) Ява, Фиджи, Кара, Содружество D) Ирландия, Шотландия, Флорес, Белое море
26. Найти температуру воздуха в точке В, показанную ниже?



- А) 27,6°C
В) 27°C



- C) 26°C
- D) 26,4°C

27. Территории каких государств, граничащих с Ташкентской областью, обозначены на рисунке буквами А и В?



- A) Казахстан и Кыргызстан
- B) Таджикистан и Кыргызстан
- C) Туркменистан и Афганистан
- D) Таджикистан и Казахстан

28. Определите тип ветра, показанный на рисунке.

Летом



Зимой



- A) Бриз
- B) Муссон
- C) Пассат
- D) Фён

29. Определите страны в пределах Южного лесного пояса, богатых лесными ресурсами.

- A) Колумбия, Мьянма
- B) Бразилия, Мадагаскар
- C) Таиланд, Венесуэла
- D) Аргентина, Индонезия

30. Какие из перечисленных городов были построены на территориях, где имеются запасы полезных ископаемых и водных ресурсов? 1) Янгир; 2) Навои; 3) Ангрен; 4) Гулистан; 5) Учкудук; 6) Ширин.

- A) 2, 3, 4, 6
- B) 1, 3, 5, 6
- C) 2, 3, 5, 6
- D) 1, 2, 4, 6





DEPARTMENT

